


LENGUAJE MUSICAL Ficha Nº3 Los Intervallos	4º ESO	Nota
Nombre:		

1. Completa:

Un intervalo es la _____, en _____ y _____, entre dos notas.

Ej.

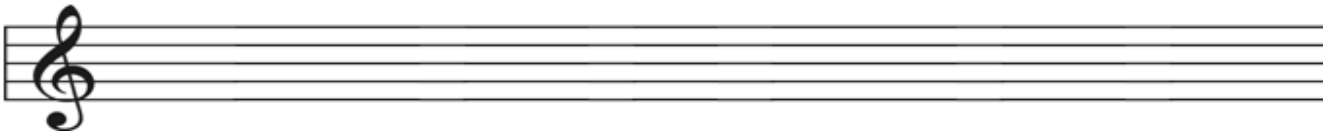


2. ¿Cómo **pueden ser** los Intervallos?

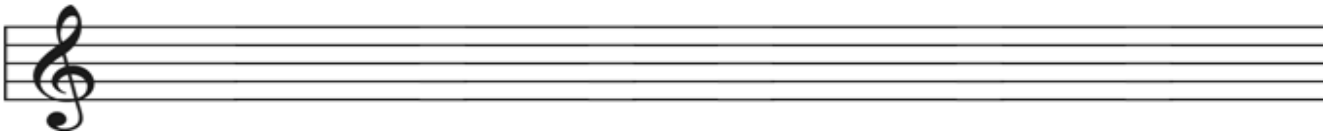
- | | |
|---------------------------------------|----------------------|
| a) _____ : cuando (completar a parte) | e) _____ : cuando... |
| b) _____ : cuando... | f) _____ : cuando... |
| c) _____ : cuando... | g) _____ : cuando... |
| d) _____ : cuando... | h) _____ : cuando... |

3. Anota un ejemplo de cada definición del ejercicio anterior:

- | | | | |
|----|----|----|----|
| a) | b) | c) | d) |
|----|----|----|----|



- | | | | |
|----|----|----|----|
| e) | f) | g) | h) |
|----|----|----|----|




4. ¿Cómo **son** los siguientes Intervallos? Anota en cada uno de los siguientes intervallos sus características.

(completar a parte)

- | | | | | | |
|----|----|----|----|----|----|
| a) | b) | c) | d) | e) | f) |
|----|----|----|----|----|----|



- | | | | | | |
|----|----|----|----|----|----|
| g) | h) | i) | j) | k) | l) |
|----|----|----|----|----|----|




5. ¿Cómo **se clasifican** los Intervallos?

a) Según su _____ : (completar a parte)


Por ejemplo:

- | | | | |
|----|----|----|----|
| a) | b) | c) | d) |
|----|----|----|----|




b) Según su _____: ...
 Por ejemplo: (anota los tonos y semitonos)

a) b) c) d)



6. Anota el cuadro de la clasificación de los Intervalos. (completar a parte)

7. Anota en un pentagrama la **escala diatónica de Do Mayor** con sus Intervalos entre sus notas; base de nuestro sistema musical Occidental.




8. Resumiendo. Anota en el siguiente cuadro la distancia en Tonos y Semitonos que hay en los diferentes Intervalos. Utiliza la escala diatónica de Do Mayor como ejemplo.

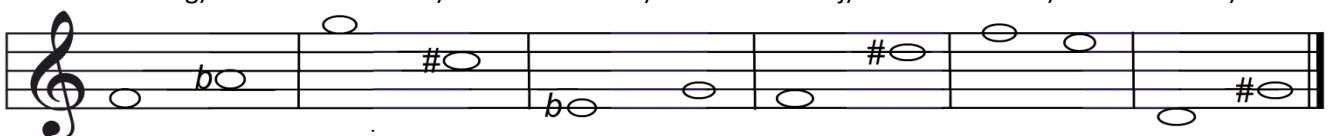
	INTERVALOS <i>Su Medida</i>	DISMINUIDOS	MENORES	JUNTOS	MAYORES	AUMENTADOS
		<i>Su Clasificación</i>				
Simples <i>Su División</i>						

9. Anota cómo son, y cómo se clasifican estos Intervallos. (completar a parte)

a) b) c) d) e) f)



g) h) i) j) k) l)



m) n) ñ) o) p) q)

